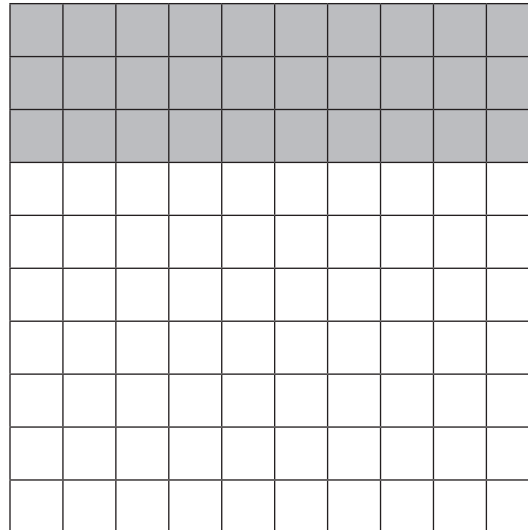
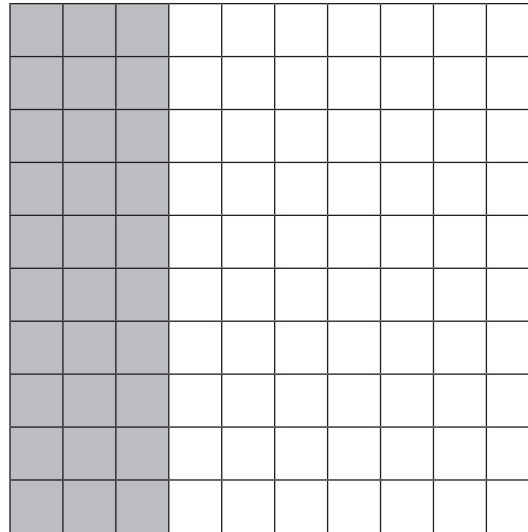


ABBILDUNG 13.2-1

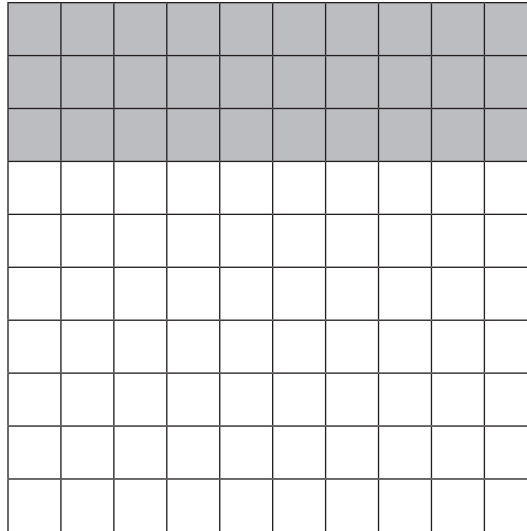
Waagerechte Kennzeichnung von $3 \cdot 10$ in einem Hunderterfeld



Senkrechte Kennzeichnung von $3 \cdot 10$ in einem Hunderterfeld




Plus-Aufgabe zur Mal-Aufgabe $10 \cdot 3$ in einem Hunderterfeld



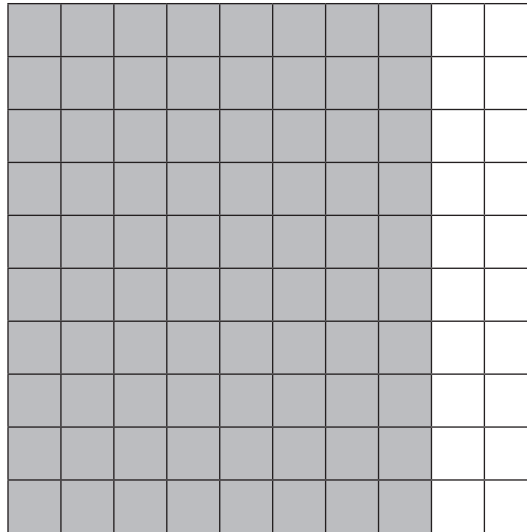
$$3 + 3 + 3 + 3 + 3 + 3 + 3 + 3 + 3 + 3 = 10 \cdot 3 = 30$$

Plus-Aufgabe zur Mal-Aufgabe $10 \cdot 8$ in einem Hunderterfeld



$$8 + 8 + 8 + 8 + 8 + 8 + 8 + 8 + 8 + 8 = 10 \cdot 8 = 80$$

Plus-Aufgabe zur Mal-Aufgabe $8 \cdot 10$ in einem Hunderterfeld



$$10 + 10 + 10 + 10 + 10 + 10 + 10 + 10 = 8 \cdot 10 = 80$$