



**Lernziel** Ich kann Ziffern schreiben und sie ihren Werten zuordnen.

# Der Tag

## 1. Welche Zahl gehört zu welcher Menge? Ordnen Sie zu!

20 17

2. Nummerieren Sie die Tätigkeiten nach dem Tagesablauf.
3. Wie viele Tätigkeiten sind es?

Mittag essen \_\_\_\_\_

aufstehen \_\_\_\_\_

frühstücken \_\_\_\_\_

Zähne putzen \_\_\_\_\_

schlafen gehen \_\_\_\_\_

zur Arbeit fahren \_\_\_\_\_

Abendbrot essen \_\_\_\_\_

einschlafen \_\_\_\_\_

# Zahlen




1. Zählen Sie die Augen auf den Würfeln zusammen und schreiben Sie die richtigen Ziffern daneben.

  4        \_\_\_\_\_

  \_\_\_\_\_        \_\_\_\_\_

  \_\_\_\_\_        \_\_\_\_\_

  \_\_\_\_\_        \_\_\_\_\_

  \_\_\_\_\_        \_\_\_\_\_

2. Zählen Sie die abgebildeten Gegenstände im Kursraum und schreiben Sie die Anzahl neben das Bild. Vergleichen Sie in der Gruppe.



\_\_\_\_\_



\_\_\_\_\_



\_\_\_\_\_



\_\_\_\_\_



\_\_\_\_\_



\_\_\_\_\_



\_\_\_\_\_



\_\_\_\_\_



\_\_\_\_\_



\_\_\_\_\_



\_\_\_\_\_



\_\_\_\_\_